



Begleitquiz zum Global Goals Radweg Lösungen

Stand: Oktober 2021




Auf der kostenlosen Radkarte (aktuelle Auflage 2021) des Global Goals Radweg befinden sich Quizfragen zu den Lernstationen auf dem Radweg. Hier finden Sie die Lösungen zum Quiz. Diese sind in fett gedruckt. Zusätzlich finden Sie die Quellen und einige Erklärungen zu den Fragen.

Falls Sie weitere Fragen haben, melden Sie sich gern bei radweg@welthaus.de oder buchen Sie eine geführte Radtouren oder einen Spaziergang auf dem Global Goals Radweg.

Wir wünschen Ihnen viel Spaß beim knobeln und beim Fahren des Radwegs!

Ihr Welthaus Bielefeld

Station: Ungleichheit verringern (SDG 10)



Emma aus Deutschland lebt wahrscheinlich im Vergleich zu Rosita in Mosambik ...

- A: 5 Jahre weniger als Rosita.
- B: 10 Jahre länger als Rosita.
- C: 20 Jahre länger als Rosita.**
- D: 30 Jahre länger als Rosita.**

Antwort D (30 Jahre) ist nach Informationen auf der Infosteile richtig. Der Altersabstand hat sich allerdings in den letzten Jahren verringert, weil die Lebenserwartung in Mosambik gestiegen ist. Im Jahr 2019 betrug die Lebenserwartung in Mosambik 61 Jahre und in Deutschland 81 Jahre. D.h. die Differenz beträgt aktuell nur noch 20 Jahre (also Antwort C).


Quelle: Worldbank, Development Indicators Database,
<https://data.worldbank.org/indicator/SP.DYN.LE00.IN>

Die 10 % der Deutschen, die am reichsten sind, hatten 2020 einen Anteil am in Deutschland vorhandenen Vermögen von ...

- A: 27 %.
- B: 47 %.
- C: 67 %.**
- D: 87 %.

Quelle: Sozioökonomisches Panel (SOEP), DIW/ZEIT vom 14.7. 2020,
<https://www.zeit.de/wirtschaft/2020-07/vermoegensverteilung-deutschland-diw-studie-ungleichheit>

Station: Gleichberechtigung von Männern und Frauen (SDG 5)



In keinem Land der Erde ist der Anteil der Frauen im nationalen Parlament höher als in ...

- A: Deutschland.
- B: Brasilien.
- C: Ruanda.**
- D: Schweden.

Im Jahr 2016 (an der Station aufgeführt): Ruanda: 61 %, Schweden: 44%, Deutschland: 37%, Brasilien: 10%

Im Jahr 2021: Ruanda: 61,3%, Schweden: 47%, Deutschland: 31,5%, Brasilien: 15%

Quelle: Inter Parliamentary Union, <https://www.ipu.org/women-in-politics-2021>

Der Anteil der Frauen in den Vorständen der deutschen DAX-Unternehmen lag 2020 bei ...

- A: 4,6 %.
- B: 14,6 %.**
- C: 24,6 %.
- D: 34,6 %.

Quelle: Statista, <https://de.statista.com/statistik/daten/studie/409010/umfrage/frauenanteil-in-dax-vorstaenden/>

Station: Wasser für alle (SDG 6)



Was ist virtuelles Wasser?

A: Ein wirtschaftliches Konzept zum Handel mit Wasser.

B: Die Menge an Wasser, die bei der Herstellung einer Ware eingesetzt und verschmutzt wird.

C: Wasser in Videospiele.

D: Die Wassermenge, die am Äquator verdunstet.

Quelle: Water Footprint Network, <https://waterfootprint.org/en/water-footprint/personal-water-footprint/>

Weltweit gab es 2019 schätzungsweise keine Toiletten ...

A: in der Hälfte aller Schulen.


B: in einem Drittel aller Schulen

C: in einem Viertel aller Schulen.

D: in einem Zehntel aller Schulen.

Quelle: United Nations Children's Fund (UNICEF) and World Health Organization (WHO), <https://washdata.org/sites/default/files/2020-08/jmp-2020-wash-schools.pdf> Seite 8.

Station: Globale Partnerschaften stärken (SDG 17)



Aus welchem Land stammt Anodiwa, die von einer partnerschaftlichen Kooperation mit dem Welthaus berichtet?

- A: Brasilien
- B: Mexiko
- C: Südafrika
- D: Simbabwe**

Rechnet man die staatlichen deutschen Ausgaben für die Entwicklungszusammenarbeit mit den ärmeren Ländern auf die Bevölkerung in Deutschland um, so betragen diese (2020) rund....

- A: 3 Euro pro Kopf.
- B: 30 Euro pro Kopf.
- C: 300 Euro pro Kopf.**
- D: 3000 Euro pro Kopf.

Die deutsche EZ betrug 2020 24,93 Mrd. € bei einer Bevölkerung von 83,16 Millionen (Jahr 2020) entspricht dies einer Pro-Kopf-Ausgabe von 300 €.

Quelle: Bundesministerium für wirtschaftliche Zusammenarbeit und Entwicklung,
<https://www.bmz.de/de/ministerium/zahlen-fakten/oda-zahlen/deutsche-oda-leistungen-19220>

Station: Nachhaltig konsumieren und produzieren (SDG 12)

Wie heißt die Organisation, bei der Leon (Audioknopf) mitmacht?

- A: Fair-fashion-movement
- B: Fair-trade-movement
- C: Foodsharing-movement**
- D: Vegetarian-forward-movement



Glaubt man der Organisation GREENPEACE, so besitzt in Deutschland jede Frau im Durchschnitt ...

- A: 28 Kleidungsstücke.
- B: 68 Kleidungsstücke.
- C: 118 Kleidungsstücke.**
- D: 218 Kleidungsstücke.

118 Kleidungsstücken ohne Unterwäsche, Socken und Strumpfhosen.

Quelle: Greenpeace-Studie 2015,
https://www.greenpeace.de/sites/www.greenpeace.de/files/publications/20151123_greenpeace_modekonsum_flyer.pdf

Station: Klimawandel stoppen (SDG 13)

Welches Tier findet durch den Klimawandel günstigere Lebensbedingungen vor?

- A: Eisbär
- B: Kabeljau
- C: Mücke**
- D: Panda-Bär



Durch die Erderwärmung verbreiten sich die Mücken stärker auch in Regionen, die früher „zu kalt“ waren.

Quelle: <https://www.sueddeutsche.de/wissen/klimawandel-mit-der-hitze-kommen-die-muecken-1.4414069>

45 % des Stroms in Deutschland speisten sich 2020 aus erneuerbaren Energien. Auf welche Weise wird der größte Anteil erneuerbarer Energien erzeugt?

- A: Biomasse
- B: Windkraft**
- C: Wasserkraft
- D: Photovoltaik

Windenergie (131 Mrd. kWh) leistet den größten Beitrag zur Stromerzeugung aus erneuerbaren Energien. Darauf folgen die Stromerzeugung durch Biomasse (50,6 Mrd. kWh), Photovoltaik (50,6 Mrd. kWh) und Wasserkraft (18,6 Mrd. kWh).

Quelle: Umweltbundesamt,
<https://www.umweltbundesamt.de/themen/klima-energie/erneuerbare-energien/erneuerbare-energien-in-zahlen#strom>

Station: Frieden, Gerechtigkeit und starke Institutionen fördern (SDG 16)



Welche Organisation setzt sich (auch in Bielefeld) vor allem für Gefangene ein, die aus politischen Gründen im Gefängnis sind?

A: Amnesty international

B: Ärzte ohne Grenzen

C: Attac

D: Greenpeace

Transparenz, das heißt die Offenlegung von Absprachen, Einflussnahmen, Einnahmen und Ausgaben, hilft gegen ...

A: Kolonialismus.

B: Korrelation.

C: Kontemplation.

D: Korruption.



**Station: Gute Bildung für alle realisieren
(SDG 4)**



Die Friedensnobelpreisträgerin Malala stammt aus ...

- A: Indien.
- B: Iran.
- C: Pakistan.**
- D: Syrien.

Wie viel Prozent der Kinder im Grundschulalter gingen 2018 weltweit zur Schule?

- A: 92 %**
- B. 72 %
- C: 52 %
- D: 32 %

Laut UNESCO gingen 2018 nur noch 8,2% der Kinder im Grundschulalter nicht in die Schule, eine klare Verbesserung in den letzten Jahrzehnten.

Quelle: UNESCO, Factsheet 56, <http://uis.unesco.org/sites/default/files/documents/new-methodology-shows-258-million-children-adolescents-and-youth-are-out-school.pdf>



Station: Armut beenden (SDG 1)

Die nachhaltigen Entwicklungsziele wollen erreichen, dass die Armut in der Welt bis 2030 ...



- A: nicht weiter ansteigt.
- B: halbiert wird.
- C: auf 10% reduziert wird.
- D: überall beendet ist.**

1990 lebten in diesem Land noch 750 Millionen Menschen in extremer Armut. 26 Jahre später waren es nur noch 76 Millionen Menschen. Die Rede ist von ...

- A: Brasilien.
- B: China.**
- C: Indien.
- D: Südafrika.

Quelle: Worldbank, Indikator „Poverty headcount ratio at 1,90 a day PPP“, Zahl für 2016.
<https://databank.worldbank.org/source/world-development-indicators>